

Jak plyne čas

1. Spoj správně.

MINULOST

období, které teprve bude

SOUČASNOST

období, které už uplynulo

BUDOUCNOST

období, které právě prožíváme

2. Podtrhni, co je správné.

čas stále běží

čas odměřujeme hodinami

čas můžeme zastavit

čas nemůžeme zastavit

čas postupoval od minulosti k přítomnosti

čas stojí

čas postupoval od budoucnosti k minulosti

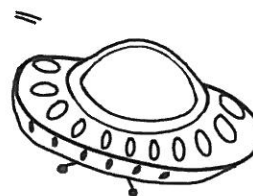


čas měříme metrem

3. Dopiš k obrázkům zkratku časového období, ke kterému patří.

M – minulost

S – současnost

B – budoucnost



4. Vytvoř časovou přímku.

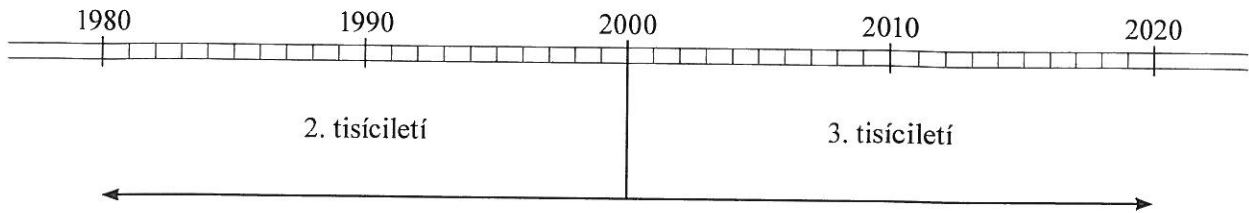
Dopiš na správná místa slova: minulost, současnost, budoucnost.

Dokresli šipku, jak plyne čas.

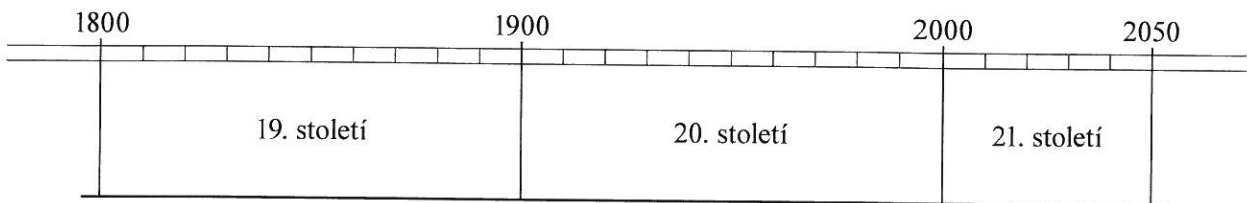
(Návod: Nejprve zakresli období, ve kterém žijeme.)

Jak plyne čas

5. Na časové přímce jsou vyznačena desetiletí od roku 1980 do roku 2020. Zakresli do ní a zapiš číslicí letošní rok a rok tvého narození.



6. Vyznač na časové přímce 19. století *zeleně*, 20. století *modře*, 21. století *červeně*. Udělej na časové přímce * v místě, kde je přibližně letošní rok.

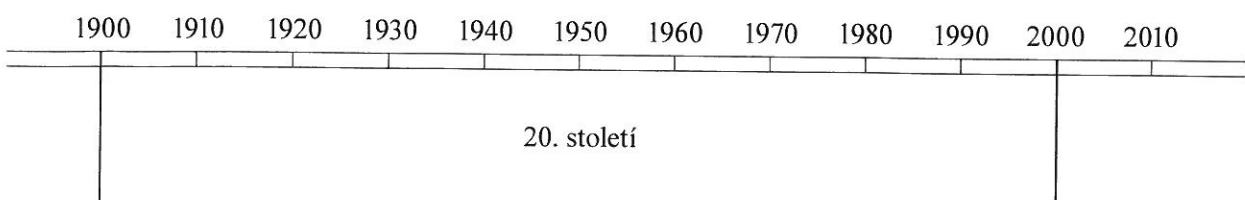


7. Doplň:

Žijeme v _____ století. Máme rok _____

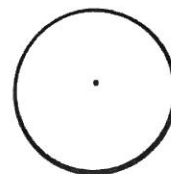
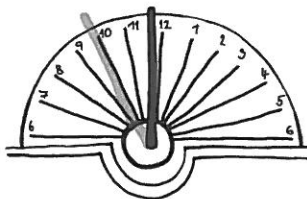

Každé století trvá _____ let. Letošní rok je v pořadí _____ v našem století.

8. Na časové přímce jsou vyznačena desetiletí 20. století. Vyznač na ní barevně desetiletí 1960–1969 (tzv. 60. léta).



Jak se měří čas

9. Čas odměřují hodiny nebo na hodinky. Všichni známe běžné hodiny s ručičkami, jsou ale i jiné hodiny. Zakresli do prázdných ciferníků čas, který ukazují digitální a sluneční hodiny.



10. Doplň přehlednou tabulku jednotek času. Využij časové přímky v učebnici, v tomto pracovním sešitě a znalosti z předchozích let. Někdy budeš muset použít vlastní výpočet. (Můžete také pracovat ve dvojicích nebo ve skupinách.)

Jednotka času		
sekunda		
minuta	_____ sekund	
hodina	_____ minut	
den	_____ hodin	
týden	_____ dnů	
měsíc	_____ týdnů	
rok	_____ měsíců	
desetiletí	_____ let	
století	_____ let	_____ desetiletí
tisíciletí	_____ let	_____ století

11. Měsíce mají různý počet dnů. Zopakuj si a doplň.

a) Leden má _____ dnů, duben má _____ dnů, červen má _____ dnů.

b) Únor může mít _____ nebo _____ dnů.

Jak poznáváme minulost

1. Kdo jsou naši předkové? Podtrhni správné odpovědi červeně.

dědeček

kamarádka

učitelka

maminka

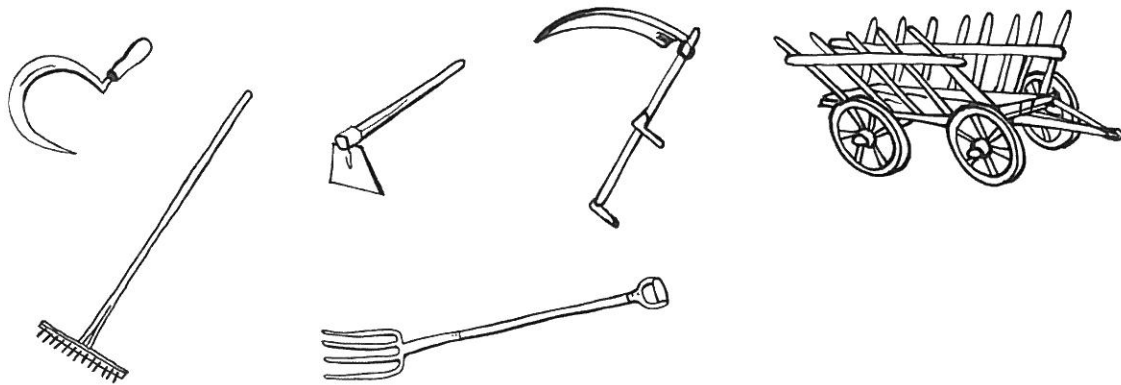
staří Slované

bratr nebo sestra


já

2. Dopiš, k čemu se v minulosti používaly tyto předměty.
Vyber z možností: lov, zemědělství, příprava potravy.

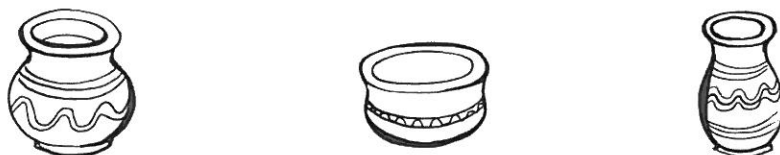
a)



b)



c)



3. Vybarvi obrázky ve cvičení 2.

4. Napiš příklady věcí, které se dříve používaly.